

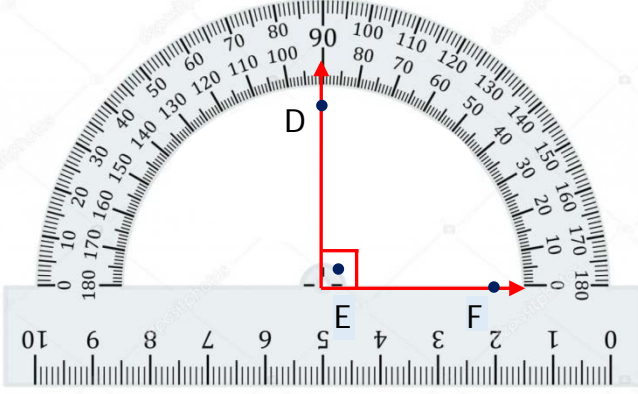


Adı Soyadı : .....

Numarası : .....

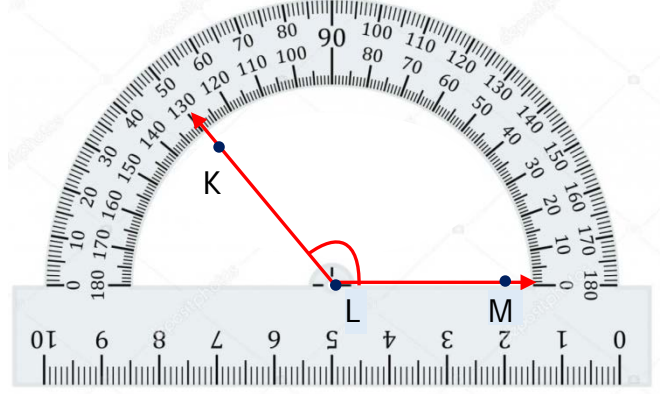
## Konu: Açıları Standart Açı Ölçme Araçları İle Ölçme (Açı Çeşitleri)

Aşağıdaki açıların ölçülerini açıölçerlerden yararlanarak bulunuz. Örnekteki gibi sembol kullanarak yazınız.



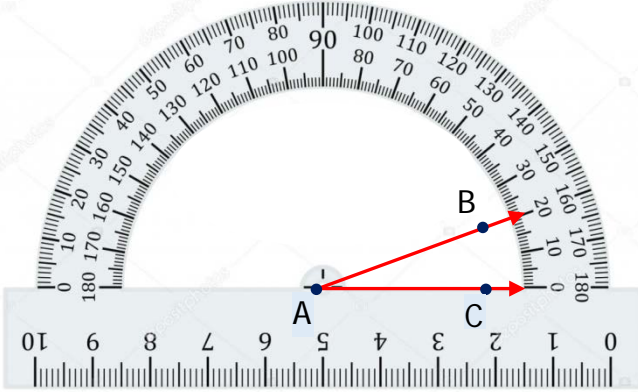
$$\widehat{DEF} = 90^\circ$$

DEF: Dik açıdır.



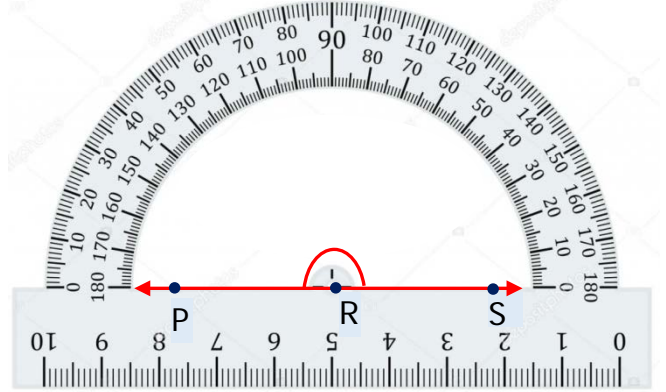
$$\widehat{KLM} = \dots$$

KLM: .....



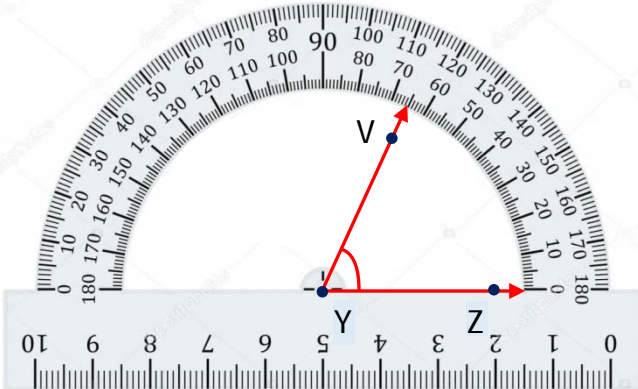
$$\widehat{BAC} = \dots$$

BAC: .....



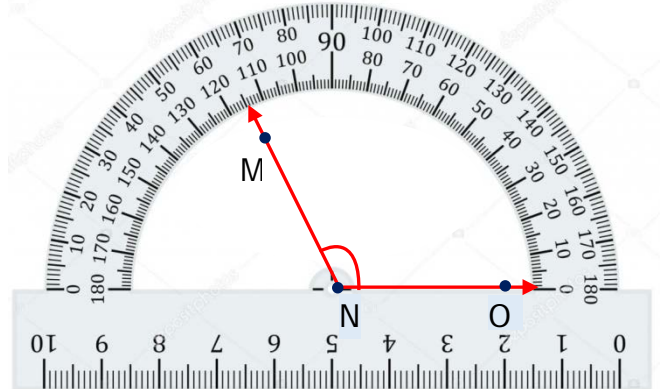
$$\widehat{PRS} = \dots$$

PRS: .....



$$\widehat{VYZ} = 90^\circ$$

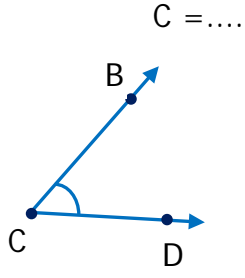
VYZ: .....



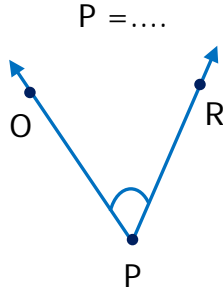
$$\widehat{MNO} = \dots$$

MNO: .....

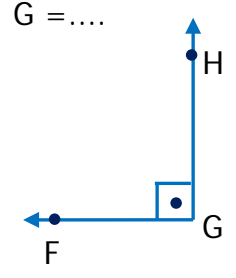
Aşağıdaki açıları açıölçer ile ölçerek açının ölçüsünü ve türünü yazınız.



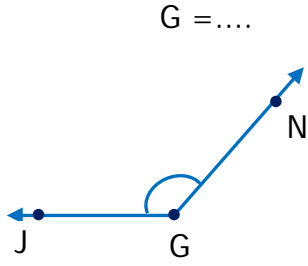
C açısı ..... açıdır.



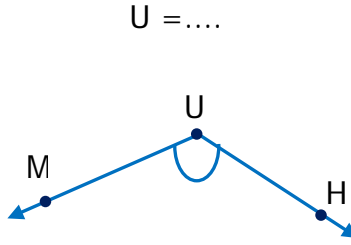
P açısı ..... açıdır.



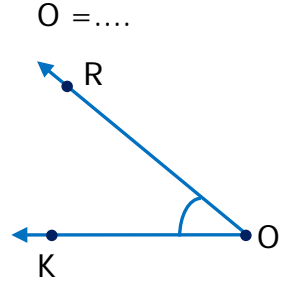
G açısı ..... açıdır.



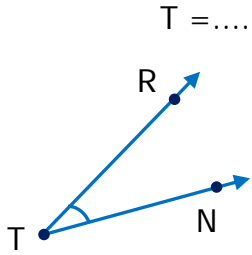
G açısı ..... açıdır.



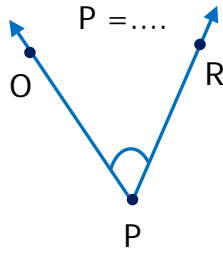
U açısı ..... açıdır.



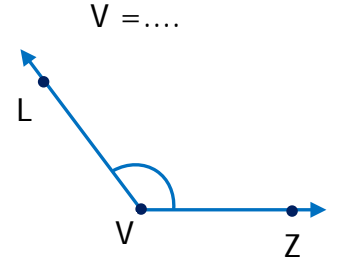
O açısı ..... açıdır.



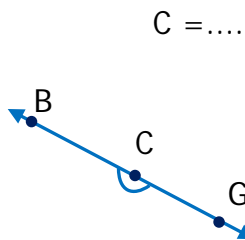
T açısı ..... açıdır.



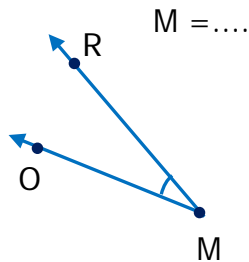
P açısı ..... açıdır.



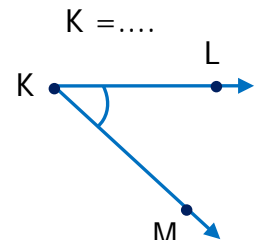
V açısı ..... açıdır.



C açısı ..... açıdır.

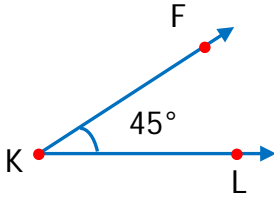


M açısı ..... açıdır.



K açısı ..... açıdır.

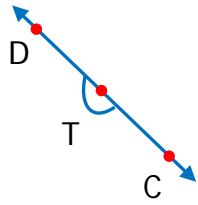
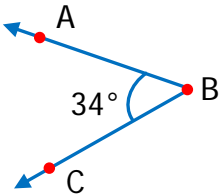
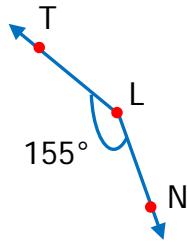
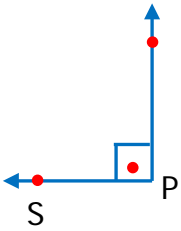
1)



Yukarıdaki K açısı ile ilgili aşağıdaki ifadelerden hangisi doğrudur?

- A) Dik açıdır. B) Dar açıdır.  
C) Geniş açıdır. D) Doğru açıdır.

2)



Yukarıdaki açılardan hangisi doğru açıdır?

- A) P açısı B) L açısı  
C) B açısı D) T açısı

3)

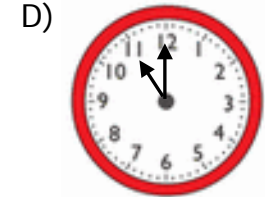
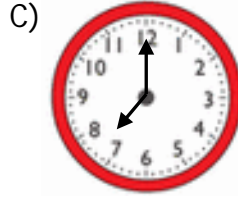
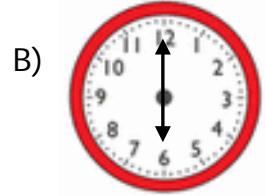
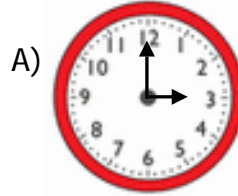
Geniş açının ölçüsü 'den büyük,  
 'den küçüktür.

Yukarıda sembolle gösterilen yerlere sırasıyla hangi ifadeler yazılmalıdır?

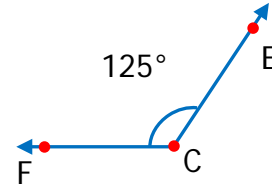


- A)  $0^\circ$   $90^\circ$   
B)  $90^\circ$   $180^\circ$   
C)  $0^\circ$   $90^\circ$   
D)  $30^\circ$   $100^\circ$

4) Aşağıdaki saatlerin hangisinde akrep ve yelkovan arasındaki açı dik açıdır?



5)



Yukarıdaki C açısı için verilen ifadelerden hangisi yanlıştır?

- A) Geniş açıdır..  
B) Doğru açıdan  $55^\circ$  küçüktür.  
C) Dik açıdan  $45^\circ$  büyüktür.  
D)  $s(\widehat{C}) = 125^\circ$

6)

Bir dar açının ölçüsü en fazla ..... derece olur.

Yukarıdaki noktalı yere aşağıdakilerden hangisi gelmelidir?

- A)  $1^\circ$  B)  $45^\circ$  C)  $89^\circ$  D)  $179^\circ$

7)

Aşağıdakilerden hangisi geniş açının ölçüsü olamaz?

- A)  $90^\circ$  B)  $100^\circ$  C)  $130^\circ$  D)  $178^\circ$